



ROTEIRO DE ATIVIDADES COMPLEMENTARES DE ESTUDO – COVID 19

ESCOLA MUNICIPAL _____

PROFESSOR: _____ **TURMA:** _____

COMPONENTE CURRICULARES: LÍNGUA PORTUGUESA E MATEMÁTICA

PERÍODO DE REALIZAÇÃO: 29 DE JUNHO a 03 de JULHO DE 2020

Senhores pais e responsáveis

Vocês estão recebendo as **Atividades Complementares de Estudo para o período de isolamento-COVID 19**. Necessito muito de sua participação para que essas atividades sejam realizadas pelo seu filho. Os senhores precisam organizar um tempo, em casa, para a realização das atividades e para que seu filho possa estudar com tranquilidade.

No roteiro a seguir estão as atividades e todas as orientações para sua execução. Tudo está descrito de forma simples. Mas se houver alguma dúvida podem entrar em contato comigo pelo *Whatsapp*, estarei à disposição para ajudar.

Seu filho deverá realizar todas as atividades na folha xerocada. Ele terá o período de **29 DE JUNHO** a **03** de **JULHO** para concluir essas atividades. Toda sexta – feira o pai deverá ir até a escola para levar as atividades da semana feitas pelo seu filho para o professor corrigir.

Cuidem-se e cuidem de sua família. Em breve tudo estará bem.

Um abraço,
Professora Alessandra

VÍDEO OU ÁUDIO DO PROFESSOR	Olá alunos! Estou mandando algumas atividades para realizarem em casa nesse período de pandemia. Façam com calma e atenção. Se tiverem dificuldades poderão sanar suas dúvidas no grupo do whatsapp. Obrigada.
O QUE VAMOS ESTUDAR?	<u>Língua Portuguesa</u> : escrita de palavras <u>Matemática</u> : situação-problema e gráfico.
PARA QUE VAMOS ESTUDAR ESSES CONTEÚDOS?	Desenvolver a escrita e formação de palavras. Fazer interpretação de gráfico. Desenvolver o raciocínio matemático.
COMO VAMOS ESTUDAR OS CONTEÚDOS?	Organize seus estudos! Realize as atividades nas folhas impressas.
COMO VAMOS REGISTRAR O QUE APRENDEMOS?	Façam as atividades lendo com atenção o enunciado. Não terá necessidade de fazer registros no caderno.

ATIVIDADES COMPLEMENTARES DE ESTUDO – COVID 19

Observe os produtos e preços da lanchonete Lanche Bem e responda:



A

Sandra comprou duas batatas grandes e um refrigerante. Quanto ela gastou?

- 8 reais.
- 9 reais.
- 7 reais.

B

Roger comprou um supersanduíche, uma torta e um refrigerante. Ele gastou...

- 12 reais.
- 10 reais.
- 11 reais.

C

Cida comprou um sanduíche, um refrigerante e uma batata grande. Ela gastou...


- 6 reais.
- 7 reais.
- 8 reais.



SECRETARIA MUNICIPAL DE EDUCAÇÃO

ATIVIDADES COMPLEMENTARES DE ESTUDO – COVID 19

ESCREVA OS NOMES DAS FIGURAS NOS QUADROS, DE ACORDO COM A QUANTIDADE DE LETRAS DE CADA PALAVRA.



<p>4 LETRAS</p> <hr/> <hr/> <hr/> <hr/> <hr/>	<p>5 LETRAS</p> <hr/> <hr/> <hr/> <hr/> <hr/>
<p>6 LETRAS</p> <hr/> <hr/> <hr/> <hr/> <hr/>	<p>7 LETRAS</p> <hr/> <hr/> <hr/> <hr/> <hr/>

SECRETARIA MUNICIPAL DE EDUCAÇÃO


ATIVIDADES COMPLEMENTARES DE ESTUDO – COVID 19

**A ROSINHA GANHOU ALGUMAS PRENDAS PARA A BARRACA DA PESCARIA DE UMA FESTA JUNINA.
ELA PRECISA CONTAR QUANTAS PRENDAS RECEBEU, AJUDE-A
COMPLETANDO A TABELA E DEPOIS O GRÁFICO:**



**- COMPLETE A TABELA COM OS NUMERAIS REFERENTES À
QUANTIDADE DAS PRENDAS:**

- AGORA MARQUE AS QUANTIDADES NO GRÁFICO:







QUANTAS PRENDAS ELA RECEBEU AO TODO ? _____





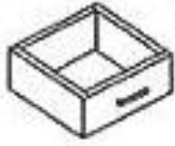
ATIVIDADES COMPLEMENTARES DE ESTUDO – COVID 19

Escreva as frases substituindo os desenhos pelos nomes:

A  baila nas  .

Veja como fica a  do vovô sem  .

Eu coloco as  dentro da  .

Eu tirei a  do  e pus na  .

Não deixe nenhuma  d'água no  .



**Prefeitura
de Rolândia**



SECRETARIA MUNICIPAL DE EDUCAÇÃO
ATIVIDADES COMPLEMENTARES DE ESTUDO – COVID 19

: